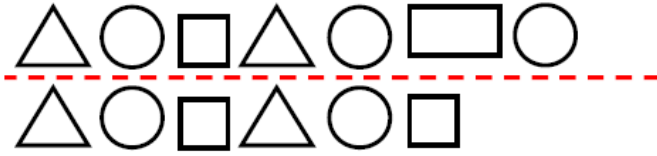


به نام خدا  
پیک تابستانه پایه اول

۱ ردیفی که الگوی منظم دارد را انتخاب کن و آن را ادامه بده .



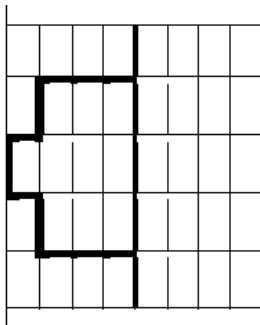
۲ در جاهای خالی عدد مناسب بنویس تا مربع شگفت انگیز کامل شود .

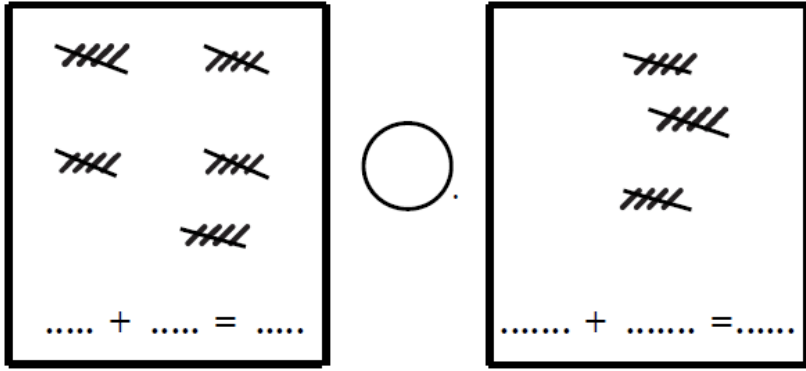
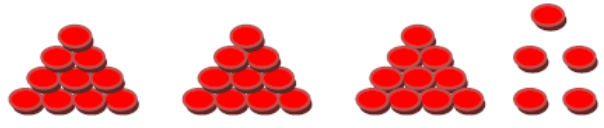

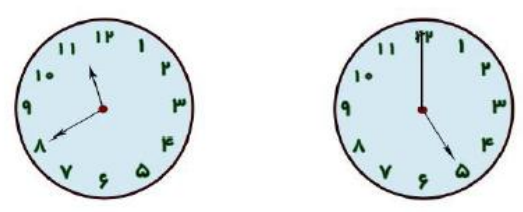
۵	۱		۳	۲	۶
۶	۳			۴	۵
۴		۳	۵	۱	
۱		۵	۴	۶	۳
۲	۵	۱	۶		۴
۳	۴		۲	۵	۱

۳ عددهای نوشته شده در جدول را به شکلی که خواسته شده (رقم و حروف) بنویس و جدول را کامل کن.

۱۸		۹۲	
	شصت و شش		چهل و نه

۴ نیمه ی دیگر شکل را کامل کن .



	<p>۵ جمع کن و در جاهای خالی عدد و علامت &lt; = &gt; مناسب بگذار.</p>				
<p>۶ الگوار پیدا کن و گام های بعدی الگوار ادامه بده</p> <p>۲۵ - ۳۰ - ۳۵ - - - - ۵۵</p> <p>- - - - ۶۲ ۶۴ - ۶۶</p>					
<p>۷ با توجه به شکل در جاهای خالی عدد یا عبارت مناسب بنویس</p> <p>با عدد : .....</p> <p>با حروف : .....</p> 	<table border="1" data-bbox="876 987 1104 1176"> <tr> <td>یکی</td> <td>ده تایی</td> </tr> <tr> <td></td> <td></td> </tr> </table>	یکی	ده تایی		
یکی	ده تایی				
	<p>۸ نام هر یک از شکل ها را بنویس</p>				
 <p>۹ زمانی که هر یک از ساعت هانشان می دهد را بنویس.</p> <p>ساعت ..... است</p> <p>کمی به ساعت ..... مانده است</p>					

مهرشاد ۹ بسته ی ده تایی مداد خرید ،مهرشاز چند عدد مداد خریده است ؟

نگین ۱۱ شاخه گل به کلاس آورد و ۵ شاخه را روی میز آموزگار گذاشت، با کمک محور نشان دهید که چند شاخه گل هنوز در دستش باقی مانده است؟

