



۱- حاصل ضرب‌های زیر را به دست آورید .

$$\begin{array}{r} ۲۴۲ \\ \times ۴۷ \\ \hline \end{array}$$

$$\begin{array}{r} ۴۰۰۰ \\ \times ۹۰۰۰ \\ \hline \end{array}$$

$$\begin{array}{r} ۴۰۷ \\ \times ۱۷ \\ \hline \end{array}$$

۲- ضرب‌های زیر را به صورت تقریبی بنویسید .

$$۴۱ \times ۲۷ =$$

$$۲۵ \times ۳۲ =$$

$$۴۵ \times ۵۷ =$$

۳- در کدام یک از این تقسیم‌ها مقسوم بر مقسوم علیه بخش پذیر است .

$$\begin{array}{r} ۲۴ \quad | \quad ۶ \\ \hline \end{array}$$

$$\begin{array}{r} ۳۵ \quad | \quad ۷ \\ \hline \end{array}$$

$$\begin{array}{r} ۲۱ \quad | \quad ۴ \\ \hline \end{array}$$

۴- زمینی به مساحت ۳۵۷۶ متر مربع را بین ۳ کشاورز به طور مساوی تقسیم کردند . زمین هر کشاورز چند متر مربع است ؟

۵- تقسیم‌های زیر را به روش فرایندی انجام دهید .

$$\begin{array}{r|l} 742 & 31 \\ \hline & \end{array}$$

$$\begin{array}{r|l} 312 & 43 \\ \hline & \end{array}$$

$$\begin{array}{r|l} 570 & 28 \\ \hline & \end{array}$$

$$\begin{array}{r|l} 645 & 27 \\ \hline & \end{array}$$

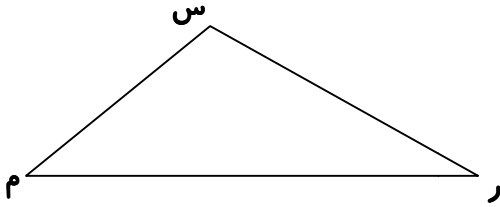
۶- انواع مثلث‌ها را نام ببرید و شکل هر یک را رسم کنید .

۷- انواع زاویه‌ها را نام ببرید و شکل هر یک را رسم کنید .

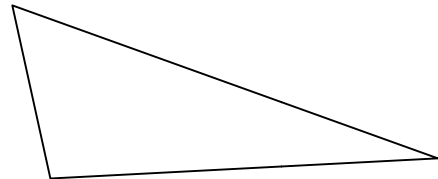
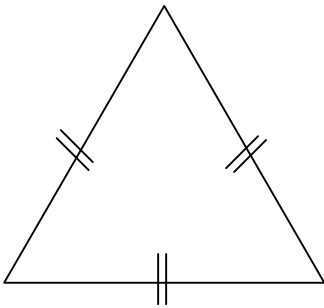
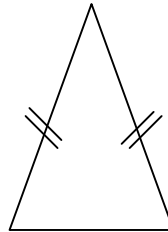
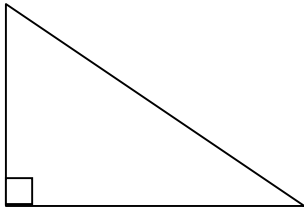
۸- مجموع زوایای داخلی هر مثلث ..... است .

پیک تابستانه شماره ۴

۹- تمام زاویه‌های شکل زیر را نام ببرید .



۱۰- ارتفاع هر یک از مثلث‌های زیر را رسم کنید .



۱۱- کسرهای زیر را به صورت اعشاری بنویسید .

$$\frac{۳}{۱۰} =$$

$$\frac{۳}{۵} =$$

$$\frac{۵۰}{۱۰۰} =$$

$$\frac{۲}{۵} =$$

$$\frac{۱}{۲} =$$

$$\frac{۴}{۱۰۰} =$$

$$\frac{۳}{۲۵} =$$

$$\frac{۱}{۱۰۰} =$$

$$\frac{۷}{۱۰} =$$

پیک تابستانه شماره ۴



۱- مخالف کلمات زیر را بنویسید .

..... ≠ نفهمیدم

..... ≠ خوشحال

..... ≠ بد

..... ≠ بینا

..... ≠ خیلی

..... ≠ نیندیشیدم

..... ≠ ندیده است

۲- برای هر یک از کلمه‌های زیر یک کلمه‌ی هم خانواده از درس پیدا کن .

..... = نقایص

..... = مهارت

..... = طویل

..... = حقارت

۳- به کدام یک از کلمه‌های زیر می‌توان پسوند تر اضافه کرد ؟

سربلند - محکم - استوار - پرتاب - شناور - دور - بلند - نشست - قله - نیرومند

۴- جمله‌های زیر را بخوان و در جاهای خالی علامت مناسب بگذار .

همان کتابی که دیروز می‌خواندی

کتاب مرا ندیدی

من کتابی ندیدم

آن را کجا دیدی

از اطلاعات خوبی که به من دادی

ندیدی

۵- واژه‌های زیر را معنی کنید .

..... = جست

..... = پر شهرت

..... = بردباری

..... = همتا

..... = درّه

..... = سپاه

..... = نیک نامی

..... = زیرگوشی

پیک تابستانه شماره ۴

۶- به کلمه‌های داخل هر کمانک نگاه کن و در جاهای خالی مخالف آن‌ها را بنویس .

الف ( زمستان تابلوی خود را بسیار ..... نقاشی کرد . ( زشت )

ب ( تابستان ، دشت را ..... از گندم‌های طلایی رنگ کشید . ( خالی )

ج ( خورشید از ..... ابرهای سفید ، بیرون آمد . ( جلو )

د ( پاییز ، برای کار خود از رنگ‌های ..... استفاده کرد . ( تیره )

۷- کلماتی را که ( ان ) آن‌ها نشانه‌ی جمع است ، پیدا کن و دور آن خط بکش .

درختان - زمستان - آسمان - نشان - چنان - تابستان - پرندگان - می‌توان - باران - چشمان

۸- معنی کلمه‌های زیر را بنویس و با آن‌ها جمله بساز .

انبوه : .....

غوک : .....

۹- شعر زیر به چه مفهوم و معنایی ، تاکید دارد .

برگ درختان سبز در نظر هوشیار هر ورقش دفتری است معرفت کردگار

۱۰- واژه‌های هم معنی را به هم وصل کنید .

گلگون \* آراستن \*

ارغوانی \* روشن کننده‌ی جهان \*

زینت دادن \* سرخ رنگ \*

جهان افروز \* رنگ قرمز مایل به بنفش \*



۱- به چه موادی رسانای گرما می گویند؟

۲- عمل دم و بازدم را توضیح دهید .

۳- قلب چیست ؟

۴- حشرات چه ویژگی‌هایی دارند ؟

۵- زالو چیست ؟ در کجا زندگی می کند و از چه چیزی تغذیه می کند .

۶- گرد افشانی را تعریف کنید .

۷- به چه گیاهانی دانه دار می گویند ، مثال بزنید .

۸- انسان‌ها چگونه زیستگاه‌های طبیعی را نابود می کنند ؟