

به نام خدا

تکلیف ریاضی ۱۴ تیر پایه اول دبستان شاهد حضرت زینب (س)





- عدد یا علامت ( $=, >, <$ ) مناسب بنویس.

۵ ○ ۵	۴ < □	۷ ○ ۹	۶ > □
□ > ۷	۹ ○ ۸	□ = □	۸ ○ ۱۰

با استفاده از انگشتان دست جمع و تفریق های زیر را کامل کن.

$۴ + ۱ = □$	$۲ - ۲ = □$	$۳ + ۳ = □$	$۹ - ۶ = □$
$۵ - ۳ = □$	$۷ - ۵ = □$	$۶ - ۰ = □$	$۱۰ - ۵ = □$

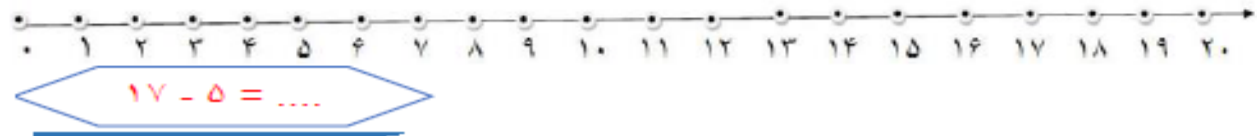

با یک رنگ مختلف به هر قسمت هشت چوب خط اضافه کرده و مجموع چوب خط ها را بنویس -

ادامه بده

۱۴	۱۷	۲۰	....	....	....
۷۸	۸۰	۸۲	....	....	....

جمع و تفریق های زیر را روی محور نشان بده .



قبل و بعد از هر عدد را بنویس.

51	79	30	28
82	32	93	66

روی کیک تولد مینا 5 شمع صورتی و 2 شمع بنفش است. روی کیک چند شمع است؟

امیر و جواد برادر هستند . آن ها هر کدام 4 مداد خریدند. آن ها چند مداد خریده اند؟

از 48 تا 63 به ترتیب بنویس

.....  
.....

عزیزم سوالات را با دقت حل کن سعی کن خودت سوالات را بخوانی و در صورت داشتن مشکل از بزرگتر هایت بپرسی . شاد و سلامت باشی.



در ضمن آدمک خندان را کامل کن