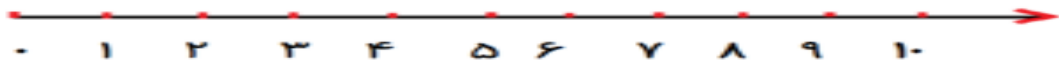


به نام خدا

تکلیف ریاضی ۱۴ مرداد پایه اول دبستان شاهد حضرت زینب (س)

عزیزم حاصل عبارتهای زیر را با محور بدست بیاور



$$1 + 6 + 2 =$$

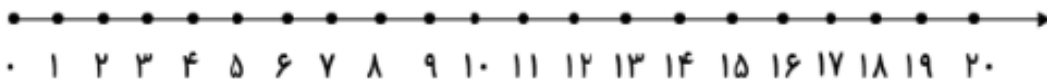


$$9 - 2 - 5 =$$

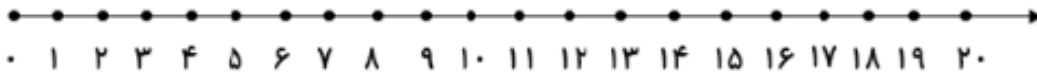
مساله های ریاضی را با محور حل کن و مساله آخری را با شکل حل کن (نوشتن راه حل و جلو نویسی فراموش نشود)

۸ مسافردر اتوبوس بودند. ۶ مسافر دیگر هم سوار شدند. در ایستگاه ۵ مسافر دیگر هم سوار شدند.

حالا چند مسافر در اتوبوس هست؟ -----



۵ ماهی در حوض بود. علی ۵ ماهی دیگر در حوض انداخت. حسین هم ۶ ماهی دیگر در حوض انداخت.
حالا چند ماهی در حوض است؟ -----



۱۴ شکلات در جعبه بود. بچه ها ۹ تا از شکلات ها را خوردند. چند شکلات در جعبه باقی مانده
است؟ -----

جمع های زیر را حل کن

$5 + 5 + 5 + 5 =$ <input type="text"/>	$5 + 5 + 5 + 4 =$ <input type="text"/>
$20 + 10 + 5 - 5 =$ <input type="text"/>	$10 + 10 + 5 + 5 + 5 =$ <input type="text"/>
$20 + 10 + 5 + 3 =$ <input type="text"/>	$5 + 5 + 2 =$ <input type="text"/>
$20 + 5 + 10 - 10 =$ <input type="text"/>	$10 + 5 + 3 =$ <input type="text"/>
$20 + 20 + 10 + 5 =$ <input type="text"/>	$10 + 20 + 5 + 4 =$ <input type="text"/>

بین دو عبارت علامت مناسب را انتخاب کن

$20 + 30 =$ $<$ $=$ $>$ $60 - 10 =$

$10 + 8 =$ $<$ $=$ $>$ $10 + 7 =$

$25 - 5 =$ $<$ $=$ $>$ $15 + 10 =$

الگو های عددی را ادامه بده.

۳۰-۳۵-

۲۱-۲۸-




۴۰-۵۰

از ۷۸ تا ۹۵ به ترتیب بنویس

.....
.....

عزیزم سوالات را با دقت حل کن سعی کن خودت سوالات را بخوانی و در صورت داشتن مشکل از
بزرگتر هایت بپرس

با هر دایره شکل های مختلف درست کن.



تابستان خوبی داشته باشید. متشکرم