

۱- با رقم های ۵ و ۹ و ۱ هر چقدر می توانی عدد سه رقمی بنویس.

بزرگ ترین عدد ساخته شده چند است؟.....

کوچک ترین عدد ساخته شده چند است؟.....

در بین عددها، عددهایی که یکانش کوچک ترین عدد فرد است را بنویس.....

عددهایی که یکانش کمتر از صدگان و بیشتر از دهگان است را بنویس.....

۲- حاصل جمع و تفریق ها را پیدا کن.

$$۹۰ - ۲۰ + ۱۰ + ۳۰ = \dots\dots\dots$$

$$۷ + ۱۰ + ۵ + ۲۰ + ۵ + ۱۰ + ۳۰ = \dots\dots\dots$$

۳- اعداد را به رقم و حروف بنویس.

هفت صد و پنج ..... ۹۳۸

چهار صد ..... ۶۰۵

۴- کتابی ۷۴۸ صفحه داشت. زهرا هفته ی اول ۲۵۹ صفحه و هفته ی دوم ۳۱۴ صفحه از آن را خواند.

- زهرا چند صفحه از کتاب را خوانده است؟

- چند صفحه از کتاب باقی مانده است؟

۵- مقایسه کن و در جاهای خالی علامت  $< = >$  قرار بده.

۵۰ میلی متر  سانتی متر

۴۰۰ + ۳۰۰  ۹۰۰ - ۲۰۰

۶/۶  ۶۷۵


۶- با توجه به عبارت نوشته شده شکل ها را کامل کن و رنگ بزن.



۱ قسمت از ۲ قسمت مساوی




۵ قسمت از ۸ قسمت مساوی



۲ قسمت از ۴ قسمت مساوی

۷- برای عبارت زیر شکل بکش یا با توجه به شکل عبارت را کامل کن.



..... دسته ی ..... تایی می شود .....

..... ۳ دسته ی ۴ تایی می شود .....

۸- قد پدر علی ۱۸۲ سانتی متر و قد علی ۴۹ سانتی متر کوتاه تر از پدرش است.

- قد علی چند سانتی متر است؟

- قد آن ها با هم چند سانتی متر است؟


۹- حاصل جمع و تفریق ها را با هر روشی که دوست داری پیدا کن.

$$\begin{array}{r} ۲۶۸ \\ +۳۹۶ \\ \hline \end{array}$$

$$\begin{array}{r} ۹۲۷ \\ -۶۷۲ \\ \hline \end{array}$$

$$\begin{array}{r} ۱۰۰ \\ -۴۶۷ \\ \hline \end{array}$$

$$\begin{array}{r} ۳۵۷ \\ + ۶۲۸ \\ \hline \end{array}$$



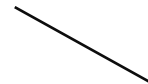
۱۰- در یک کیسه ۳ مهره ی قرمز، ۷ مهره ی آبی و ۶ مهره ی زرد وجود دارد.

چه کسری از مهره ها آبی است؟.....

چه کسری از مهره ها زرد است؟.....

احتمال بیرون آمدن کدام رنگ از کیسه بیشتر است؟ چرا؟.....

۱۱- خط های زیر را با خط کش اندازه بگیر و بنویس چند میلی متر است.



۱۲- ساعت را کامل و جاهای خالی را کامل کن.

۱ ساعت بعد از ساعت ۸:۳۰ چه ساعتی است؟.....

نیم ساعت قبل از ساعت ۵:۴۵ دقیقه چه ساعتی است؟.....

یک ربع بعد از ساعت ۲ و ربع چه ساعتی است؟.....

۲۰ دقیقه قبل از ۱۱:۳۵ دقیقه چه ساعتی است؟.....

