


به نام خدا

تمرین دوره ای ریاضی پنجم (مرداد ماه)

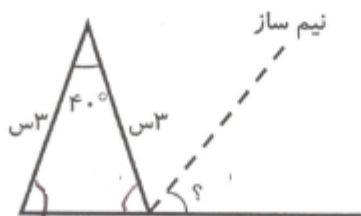
دبستان شاهد حضرت زینب (س)

ردیف	شرح سوال
۱	با توجه به عدد مقابل به پرسش های زیر پاسخ دهید. الف) رقم ۶ در چه مرتبه ای قرار دارد؟ ب) ارزش مکانی کدام رقم بیشتر است؟ ج) عدد را به حروف بنویسید. $۴۲,۰۷۳,۰۵۳/۶۸$
۲	اگر ۸۰ دقیقه ی دیگر ساعت ۹:۳۰' باشد ، هم اکنون ساعت چند است ؟
۳	در جاهای خالی عدد مناسب بنویسید. $\frac{۸}{۵} = \frac{\bigcirc}{۵}$ $\frac{۱}{۴} = \frac{\bigcirc}{۴}$ $\frac{۱۸}{۸} = \frac{\bigcirc}{۸} + \frac{۲}{۸} = \frac{\bigcirc}{۸}$
۴	پارچه فروشی ۴۰ متر پارچه داشت ، بار اول $۴\frac{۱}{۴}$ متر و بار دوم $۳/۴$ متر پارچه را فروخت . او چند متر پارچه فروخت؟ چند متر پارچه برایش باقی مانده است؟
۵	محیط مستطیلی ۲۰۰ سانتی متر است ، اگر نسبت طول به عرض آن ۳ به ۲ باشد ، مساحت آن چند سانتی متر مربع است؟
۶	۲۰٪ دایره و ۲۵٪ مستطیل را رنگ کنید. 

۷ محمد مبلغ ۲۴۶۰ تومان از برادرش بیشتر پول دارد، اگر پول او ۴ برابر برادرش باشد پول هر کدام چقدر است؟

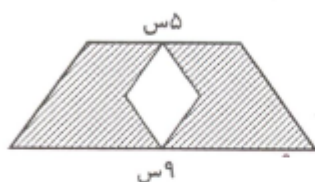
۸ امیر با ۳۰٪ پولش ۴ دفتر ۳۰۰۰ تومانی خرید. کل پول او چقدر است؟

۹ اندازه زاویه خواسته شده را بدست آورید.



۱۰ مساحت قسمت هاشور خورده را حساب کنید.

(اندازه قطرهای لوزی ۳ و ۲ سانتی متر است)



۱۱ در جاهای خالی عدد مناسب بنویسید.

الف)  $0/5$  یعنی تا  $0/1$

ب)  $6/3$  یعنی تا  $0/01$

ج)  $\frac{4}{5}$  عدد  $400$  می شود. تا

د) ثلث زاویه نیم صفحه می شود درجه